

## ¿Qué Hora Es?

---

### A. Match each written time with the correct digital time.

- |                               |       |          |
|-------------------------------|-------|----------|
| 1. Son las siete.             | _____ | a) 10:50 |
| 2. Son las cinco y cinco.     | _____ | b) 4:55  |
| 3. Son las seis menos cinco.  | _____ | c) 7:00  |
| 4. Es la una y cuarto.        | _____ | d) 5:55  |
| 5. Son las dos menos cuarto.  | _____ | e) 1:20  |
| 6. Es la una y veinte.        | _____ | f) 11:45 |
| 7. Son las cinco menos cinco. | _____ | g) 10:30 |
| 8. Son las diez y media.      | _____ | h) 5:05  |
| 9. Son las doce menos cuarto. | _____ | i) 1:15  |
| 10. Son las once menos diez.  | _____ | j) 1:45  |

### B. Write the digital time that corresponds to each written time.

**Modelo:** Son las cinco. 5:00

1. Son las tres. \_\_\_\_\_
2. Son las nueve y diez. \_\_\_\_\_
3. Son las diez menos cinco. \_\_\_\_\_
4. Es la una y cuarto. \_\_\_\_\_
5. Son las seis y media. \_\_\_\_\_
6. Son las once menos veinte. \_\_\_\_\_
7. Es la una menos cinco. \_\_\_\_\_
8. Son las doce menos veinticinco. \_\_\_\_\_
9. Son las ocho y veinte. \_\_\_\_\_
10. Son las cuatro y cinco. \_\_\_\_\_

C. Write the time in words that is shown on each digital clock.

6:00

1. \_\_\_\_\_  
\_\_\_\_\_

3:05

2. \_\_\_\_\_  
\_\_\_\_\_

12:02

3. \_\_\_\_\_  
\_\_\_\_\_

1:35

4. \_\_\_\_\_  
\_\_\_\_\_

7:28

5. \_\_\_\_\_  
\_\_\_\_\_

1:16

6. \_\_\_\_\_  
\_\_\_\_\_

9:49

7. \_\_\_\_\_  
\_\_\_\_\_

# ¿Qué Hora Es?

---

## A. Match each written time with the correct digital time.

- |                               |              |          |
|-------------------------------|--------------|----------|
| 1. Son las siete.             | <u>  c  </u> | a) 10:50 |
| 2. Son las cinco y cinco.     | <u>  h  </u> | b) 4:55  |
| 3. Son las seis menos cinco.  | <u>  d  </u> | c) 7:00  |
| 4. Es la una y cuarto.        | <u>  i  </u> | d) 5:55  |
| 5. Son las dos menos cuarto.  | <u>  j  </u> | e) 1:20  |
| 6. Es la una y veinte.        | <u>  e  </u> | f) 11:45 |
| 7. Son las cinco menos cinco. | <u>  b  </u> | g) 10:30 |
| 8. Son las diez y media.      | <u>  g  </u> | h) 5:05  |
| 9. Son las doce menos cuarto. | <u>  f  </u> | i) 1:15  |
| 10. Son las once menos diez.  | <u>  a  </u> | j) 1:45  |

## B. Write the digital time that corresponds to each written time.

**Modelo:** Son las cinco.   5:00  

- |                                    |                         |
|------------------------------------|-------------------------|
| 1. Son las tres.                   | <u>      3:00      </u> |
| 2. Son las nueve y diez.           | <u>      9:10      </u> |
| 3. Son las diez menos cinco.       | <u>      9:55      </u> |
| 4. Es la una y cuarto.             | <u>      1:15      </u> |
| 5. Son las seis y media.           | <u>      6:30      </u> |
| 6. Son las once menos veinte.      | <u>     10:40      </u> |
| 7. Es la una menos cinco.          | <u>     12:55      </u> |
| 8. Son las doce menos veinticinco. | <u>     11:35      </u> |
| 9. Son las ocho y veinte.          | <u>      8:20      </u> |
| 10. Son las cuatro y cinco.        | <u>      4:05      </u> |

C. Write the time in words that is shown on each digital clock.



1. \_\_\_Son las seis.\_\_\_\_\_

\_\_\_\_\_




2. Son lastres y cinco.

\_\_\_\_\_




3. \_\_\_\_\_Son las doce y dos.\_\_\_\_\_

\_\_\_\_\_




4. \_\_\_Son las dos menos veinticinco.\_\_\_\_

\_\_\_\_\_




5. Son las siete y veintiocho.

\_\_\_\_\_



6. \_\_\_Es la una y diecisiete.\_\_\_\_\_

\_\_\_\_\_



7. \_\_\_\_\_Son las diez menos once.\_\_\_\_\_

\_\_\_\_\_